

Часть 1

Выберите верный ответ из четырех предложенных.

A1. Какие целые числа расположены на координатной прямой между числами -2 и 2 ?

- 1) 0
- 2) -2 ; -1 ; 0 ; 1
- 3) -1 ; 0 ; 1
- 4) -1 ; 1

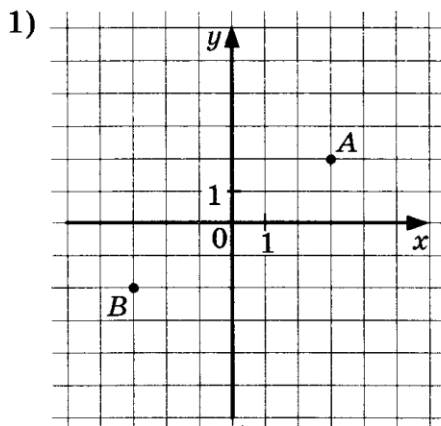
A2. Найдите значение выражения $\left(-1\frac{2}{3} - 2\frac{1}{3}\right) + 2,5$.

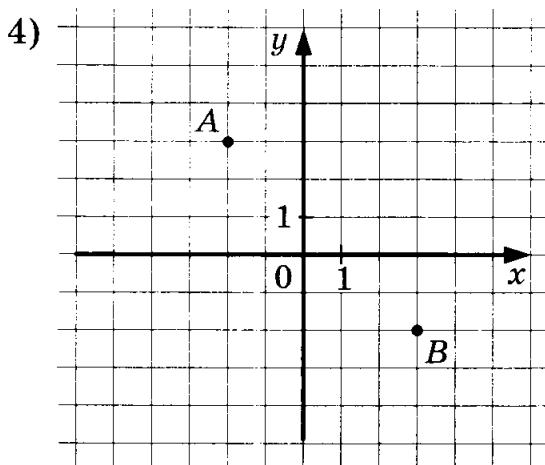
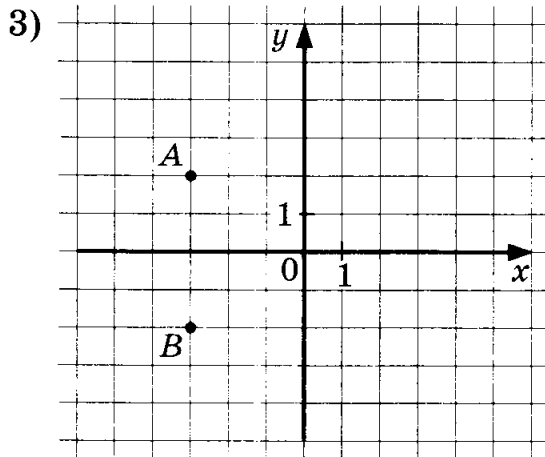
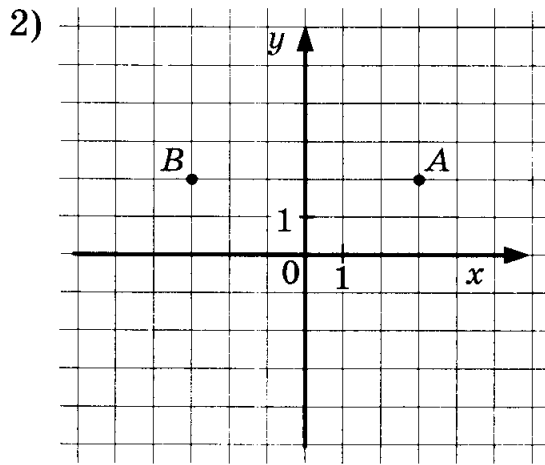
- 1) $-1,5$
- 2) -4
- 3) $1,5$
- 4) $6,5$

A3. Выполните действия $(-75 + 45 - 30) : (-15)$.

- 1) -4
- 2) $0,4$
- 3) 4
- 4) 3

A4. Укажите рисунок, на котором изображены точки, симметричные относительно оси Oy .





А5. Приведите подобные слагаемые: $-\frac{7}{9}y + \frac{1}{3}y - \frac{3}{4}x + \frac{1}{2}x$.

1) $\frac{4}{9}y + \frac{1}{4}x$

2) $\frac{17}{36}xy$

3) $-\frac{7}{9}x - \frac{1}{4}y$

4) $-\frac{4}{9}y - \frac{1}{4}x$

A6. Одно число больше другого в 4,5 раза. Если от большего числа отнять 54, а к меньшему прибавить 72, то получатся равные результаты. Чему равно большее число?

- 1) 162
- 2) 126
- 3) 172
- 4) 36

A7. Длина окружности 62,8 см. Найдите площадь круга, ограниченного этой окружностью. Число π округлите до сотых.

- 1) 1256 см²
- 2) 314 см²
- 3) 628 см²
- 4) 10 см²

A8. Укажите выражение, кратное 13.

- 1) $27 \cdot 18$
- 2) $27 \cdot 41$
- 3) $39 \cdot 27$
- 4) $27 \cdot 36$

A9. Укажите число, которое кратно числам 2 и 5.

- 1) 1514
- 2) 3860
- 3) 4515
- 4) 2183

A10. Найдите НОД чисел 195, 156 и 260:

- 1) 39
- 2) 26
- 3) 42
- 4) 13

Часть 2

Выполните задание и запишите краткий ответ.

В1. При каком значении переменной x разность частного $\frac{x}{100}$ и 100 с числом 20 равна 7,2?

Ответ: _____

В2. Лыжники предполагали прибыть к месту назначения через 6 суток, но тёплая погода замедлила их движение, и, вместо ежесуточного перехода в 52 км, они стали проходить 39 км. За сколько суток они совершили весь переход?

Ответ: _____

В3. Высота окна прямоугольной формы $1\frac{1}{5}$ м, а ширина окна составляет $\frac{2}{3}$ высоты. Найдите площадь окна.

Ответ: _____

В4. Когда ученик прошёл 0,3 всего пути от дома до школы, ему ещё осталось пройти до середины пути 150 м. Какой длины путь школьника от дома до школы?

Ответ: _____

В5. Бросают игральный кубик. Какова вероятность того, что количество выпавших очков будет не больше 4?

Ответ: _____

Часть 3

Выполните задание и запишите полное решение с ответом.

Какова последняя цифра числа

$$7^2 \cdot 9^2 \cdot 11^2 \cdot 13^2 \cdot 15^2 \cdot 17^2 \cdot 19^2?$$