

Демонстрация по химии 10 класс

Вариант № 1

Для выполнения заданий 1–3 используйте следующий ряд химических элементов. Ответом в заданиях 1–3 является последовательность цифр, под которыми указаны химические элементы в данном ряду.

1) Cu 2) N 3) Al 4) Li 5) B

1. Определите, атомы, каких из указанных в ряду элементов имеют конфигурацию внешнего уровня ns^1 .

Запишите в поле ответа номера выбранных элементов.

2. Из указанных в ряду химических элементов выберите три элемента, которые в Периодической системе химических элементов Д. И. Менделеева находятся в одном периоде. Расположите выбранные элементы в порядке уменьшения их атомного радиуса.

3. Из числа указанных в ряду элементов выберите два элемента, которые проявляют высшую степень окисления, равную +3.

4. Из предложенного перечня веществ выберите два вещества, в молекулах которых имеется ковалентная полярная связь:

1) KCl 2) Na₂CO₃ 3) NaOH 4) CuO 5) K₂O

5. Установите соответствие между формулой вещества и классом (группой) неорганических соединений, к которому(ой) оно принадлежит.

ФОРМУЛА ВЕЩЕСТВА

КЛАСС (ГРУППА)
НЕОРГАНИЧЕСКИХ СОЕДИНЕНИЙ

A) Al₂O₃
Б) N₂O₃
B) HClO₄

1) кислота
2) основание
3) кислотный оксид
4) амфотерный оксид

6. Из предложенного перечня веществ выберите два вещества которые вступают в реакцию с водородом:

1) гидроксид натрия 2) азот 3) серная кислота 4) оксид железа (III) 5) оксид натрия

7. Из предложенного перечня веществ выберите два вещества которые вступают в реакцию с кислородом:

1) CO 2) SiO₂ 3) CuO 4) NaOH 5) P₂O₃

8. В пробирку с солью X добавили несколько капель раствора вещества Y. В результате реакции наблюдали образование белого осадка

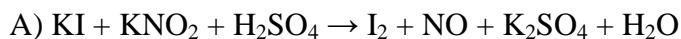
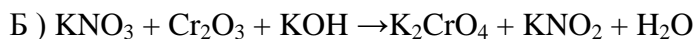
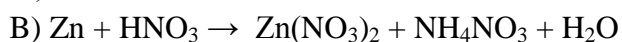
Из предложенного перечня выберите вещества X и Y, которые могут вступать в описанную реакцию.

1) HBr 2) NH₃ 3) SO₂ 4) AlCl₃ 5) NaNO₃

9. В заданной схеме превращений $\text{Cu} \xrightarrow{\text{X}} \text{CuCl}_2 \xrightarrow{\text{Y}} \text{CuI}$ веществами X и Y соответственно являются:

1) I₂ 2) Cl₂ 3) KI 4) HCl 5) KCl

10. Установите соответствие между уравнением реакции и переходом степени окисления вещества-окислителя в ней.

Уравнение реакции**Изменение степени окисления**1) $0 \rightarrow -3$ 2) $+5 \rightarrow +1$ 3) $+5 \rightarrow +4$ 4) $+5 \rightarrow -3$ 5) $+3 \rightarrow +2$

11. Установите соответствие между формулой вещества и формулами реагентов, с каждым из которых это вещество может взаимодействовать.

ВЕЩЕСТВО

А. Zn

Б. ZnCl₂В. Zn(OH)₂

Г. KOH

РЕАГЕНТЫ1) NaOH, (NH₄)₂S, AgNO₃2) HCl, H₂SO₄, NaOH3) CO₂, HNO₃, MgCl₂4) Ca, O₂, Cl₂5. KCl, HCl, CuSO₄

12. Установите соответствие между молекулярной формулой вещества и классом к которому оно принадлежит.

ВЕЩЕСТВОА. C₆H₅COOCH₃Б. C₆H₁₂O₆В. CH₃COOH**КЛАСС**

1) Альдегиды

2) Карбоновые кислоты

3) Сложные эфиры

4) Углеводы

5) Многоатомные спирты

13. Изомерами циклопентана являются:

1) циклогексан

2) 1,2-диметилциклопропан

3) 1,2-диметилциклобутан

4) метилциклопентан

5) пентен-1

14. Из предложенного перечня веществ выберите два вещества которые обесцвечивают бромную воду:

1) бензол

2) пропан

3) пропиен

4) 3,4-диметилгексен-1

5) циклопропан

15. Из предложенного перечня веществ выберите два вещества которые реагируют с муравьиной кислотой и метаналем

1) фенол

2) гидроксид меди(II)

3) гидроксид натрия

4) карбонат натрия

5) аммиачный раствор оксида серебра

16. Из предложенного перечня веществ выберите два вещества которые подвергаются гидролизу

1) глюкоза

2) крахмал

3) фруктоза

4) сахароза

5) рибоза

17. В заданной схеме превращений $C_2H_5Br \rightarrow X \rightarrow CH_3COH \rightarrow Y \rightarrow CH_3COOCH_3$ веществами X и Y соответственно являются:

1) этен

2) этанол

3) этиленгликоль

4) этановая кислота

5) этин

18. Установите соответствие между названием вещества и преимущественно образующимся продуктом его бромирования:

ВЕЩЕСТВО

- А) пропан
- Б) циклопропан
- В) пропен
- Г) пропилен

ПРОДУКТ ВЗАИМОДЕЙСТВИЯ

- 1) 1-бромпропан
- 2) 2-бромпропан
- 3) 1,2-дибромпропан
- 4) 1,3-дибромпропан
- 5) 1,1,2,2-тетрабромпропан
- 6) бромциклопропан

19. Установите соответствие между реагирующими веществами и образующимся продуктами их взаимодействия:

РЕАГИРУЮЩИЕ ВЕЩЕСТВА

- А) CH_3COH и H_2
- Б) CH_3COH и $\text{Cu}(\text{OH})_2$
- В) $\text{C}_2\text{H}_5\text{OH}$ и CuO
- Г) $\text{C}_2\text{H}_5\text{OH}$ и H_2SO_4 (конц)

ПРОДУКТ ВЗАИМОДЕЙСТВИЯ

- 1) Диэтиловый эфир
- 2) диметиловый эфир
- 3) уксусная кислота
- 4) ацетальдегид
- 5) этанол
- 6) ацетат меди

20. Из предложенного перечня выберите вещества, термическое разложение которых относится к окислительно-восстановительным реакциям

- 1) гидроксид алюминия
- 2) гидрокарбонат натрия
- 3) нитрат алюминия
- 4) карбонат аммония
- 5) нитрат аммония

21. Из предложенного перечня воздействий выберите те, которые приведут к увеличению скорости реакции между азотом и водородом

- 1) понижение температуры
- 2) повышение давления
- 3) добавление ингибитора
- 4) увеличение концентрации азота
- 5) увеличение концентрации аммиака

22. Установите соответствие между формулой вещества и продуктами электролиза его водного раствора

Формула вещества

- А) KCl
- Б) AlCl_3
- В) CuSO_4
- Г) Na_2CO_3

Продукты электролиза

- 1) водород и кислород
- 2) кислород и металл
- 3) металл и галоген
- 4) водород и галоген
- 5) водород и углекислый газ

23. Установите соответствие между формулой соли и средой ее раствора

Формула соли

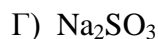
- А) NaNO_3
- Б) $\text{Fe}_2(\text{SO}_4)_3$

Среда раствора

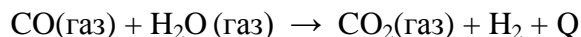
- 1) щелочная
- 2) нейтральная



3) кислая



24. Установите соответствие между фактором смещения равновесия и смещением химического равновесия в системе для реакции

**Фактор**

- А) уменьшение концентрации H_2
 Б) повышение температуры
 В) понижение давления
 Г) внесение катализатора

Смещение химического равновесия

- 1) смещается в сторону прямой реакции
 2) смещается в сторону обратной реакции
 3) не происходит смещения равновесия

25. Установите соответствие между двумя веществами и реактивом, с помощью которого можно различить эти вещества.

Вещества

- А) HgCl_2 ZnCl_2
 Б) AlCl_3 KCl
 В) HCl HI
 Г) $\text{H}_2\text{SO}_4(\text{p-p})$ HNO_3

Реактив

- 1) лакмус
 2) Cu
 3) CuCl_2
 4) NaCl
 5) фенолфталеин

26. Установите соответствие между продуктом химической промышленности и веществом (веществами) из которого (которых) производят этот продукт: к каждой позиции, обозначенной буквой, подберите соответствующую позицию, обозначенную цифрой.

ПРОДУКТ

- А) метанол
 Б) аммиак
 В) серная кислота
 Г) алюминий и водород

ВЕЩЕСТВО (ВЕЩЕСТВА)

- 1) пирит
 2) азот
 3) оксид азота(III)
 4) оксид углерода(II) и водород
 5) оксид алюминия

27. Сколько граммов соли нужно растворить в 150 г воды, чтобы получить 25% раствор.


28. Какой объем водорода необходим для полного гидрирования 5,6 л пропена.

29. Какая масса алюминия вступила в реакцию с соляной кислотой, если при этом получилось 2,24 л водорода.

Часть 2

Для записи ответов на задания 30–34 используйте БЛАНК ОТВЕТОВ № 2. Запишите сначала номер задания (30, 31 и т.д.), а затем его подробное решение. Ответы записывайте чётко и разборчиво.

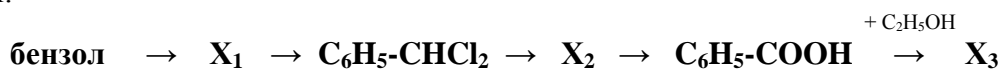
30. Составьте уравнение реакции, используя для расстановки коэффициентов метод электронного баланса:



Определите окислитель и восстановитель.

31. Нитрат меди прокалили. Смесь газов пропустили через воду, при этом образовалась кислота. К фосфиду кальция добавили воду. Выделившийся газ пропустили через горячий концентрированный раствор полученной кислоты.

32. Напишите уравнения реакций, с помощью которых можно осуществить следующие превращения:



При написании уравнений реакций используйте структурные формулы органических веществ.

33. Гидрокарбонат натрия массой 43,34 г нагревали до тех пор, пока масса твердого остатка не перестала изменяться. Полученный твердый остаток растворили в избытке соляной кислоты. Выделившийся газ пропустили через 100 г 10% раствора гидроксида натрия. Определить состав полученной соли и ее массовую долю в растворе.

34. При сгорании 21,6 г органического вещества нециклического строения образовалось 70,4 г углекислого газа и 21,6 г воды. При взаимодействии данного вещества с 1 моль хлороводорода образуется монохлорпроизводное с преимущественным расположением хлора у первичного атома углерода.

На основании данных условия задания:

- 1) произведите вычисления, необходимые для установления молекулярной формулы органического вещества;
- 2) запишите молекулярную формулу исходного органического соединения;
- 3) составьте структурную формулу этого вещества, которая однозначно отражает порядок связи атомов в молекуле;
- 4) напишите уравнение гидрогалогенирования этого вещества с указанием условий реакции.